









LONGUEUR	Séquence 2	Séance 1
CE1	PROBLÈMES	

	Quelle est la mesure de chaque étalon ?
---	---

	Sachant que la bande jaune mesure 100 cm et qu'il faut 2 bandes roses pour faire la même longueur, combien mesure une bande rose ?
	Recherche / calcul
	La bande rose mesure

	Sachant que la bande jaune mesure 100 cm et qu'il faut 4 bandes rouges pour faire la même longueur, combien mesure une bande rouge ?
	Recherche / calcul
	La bande rouge mesure

	Sachant que la bande jaune mesure 100 cm et qu'il faut 5 bandes orange pour faire la même longueur, combien mesure une bande orange ?
	Recherche / calcul
	La bande orange mesure

	Sachant que la bande jaune mesure 100 cm et qu'il faut 10 bandes blanches pour faire la même longueur, combien mesure une bande blanche ?
	Recherche / calcul
	La bande blanche mesure